

年 組 氏名	問/10問
--------	-------

◇ 生目古墳群ハンドブックキャラクターの **いっきー**と**めこぶん** が会話をしています。生目古墳群ハンドブックを読みながら、二人の会話を完成させよう！

レッツ チャレンジ！



いっきー & めこぶん

<第1問>

いっきー 「前方後円墳という古墳は、<sup>かぎあな</sup>鍵穴みたいな形でおもしろいね〜。」

めこぶん 「この形の古墳は、北は岩手県から、南は鹿児島県まで広がっているんだよ。」

いっきー 「なぜ、そんなに広い範囲に広がっているのかな？」

めこぶん

<第2問>

いっきー 「古墳の形には、大切な意味があることが分かったけど、その大きさには意味はないのかな？ いろんな大きさのものがあるみたいだけど…。」

めこぶん 「古墳の大きさは、その土地の豪族の勢力の大きさを表していると考えられているんだよ。」

いっきー 「なぜ、そんなことが分かるの？」

めこぶん

<第3問>

いっきー 「日本で一番大きな古墳は、大阪府にある大仙古墳だよ。やっぱり近畿地方の豪族はすごい力をもっていたんだね。」

めこぶん 「そうだね。でも、古墳の種類によっては、宮崎にも日本一大きなものがあるよ。」

いっきー 「そうなの?! どこの何て名前の古墳なの? 種類は？」

めこぶん 「市の古墳だよ。古墳の種類は、形古墳っていうんだよ。」

A	市	B	古墳	C	形古墳
---	---	---	----	---	-----

<第4問>

「そういえば、生目古墳群には、前方後円墳が8基もあるんだよね。しかも、100mをこえるものが3基も！これは、九州では生目古墳群だけだし、大きな勢力をもっていた証拠だね。」

「その通り！ちなみに、最近の調査では、前方後円墳の数は、8基じゃなくて9基ではないかと言われているんだよ。」

「えっ！それってどういうこと？」



Empty response box for the 4th question.

<第5問>

「生目古墳群の前方後円墳といえば、1基だけ、つくられた当時の姿に復元されているものがあるんだよ。見た目も他の古墳とは全然違うからすぐに分かるよ。」

「見た目が違うって、どういうこと？」



Empty response box for the 5th question.

<第6問>

「ぼくは、右の絵地図と生目古墳群ハンドブックの11ページの年表と見比べて、右の絵地図が西暦400年くらいの生目古墳群の様子だって分かったよ。」

「すごい！その通りだよ！でも、どうして分かったの？」



Empty response box for the 6th question.



<第7問>

👧 「このつぼは、はにわとって、装飾品として古墳に並べられていたものだよ。」

👧 「え～？ どうして見ただけでそんなことが分かるの？」



👧



<第8問>

👧 「生目7号墳は、フツーのようでフツーじゃないと言われている古墳だよ。」

👧 「そうなの？ 見た目はフツーだと思うけど、何がフツーじゃないのかな？」

👧 「実は、<sup>まいそうしせつ</sup>埋葬施設の位置に特徴があるんだよ。」

👧 「えっ？ 玄室の位置？ どういうこと？」



フツーの古墳は、

一方、生目7号墳は、



「だから、フツーじゃないと言われているんだよ。」

<第9問>

「当時の南九州の豪族は、全国的に見ても中央とのつながりが深く、大きな力をもっていたと考えられているんだよ。」

👧 「なぜ、そう考えられるの？」




その根拠は2つあってね、一つは、

もう一つは、





「なるほど～。納得！」


<第 10 問>

 「古墳群を調べると、ぼくたちの祖先の生活について、いろんなことを知ることができるんだね。」

 「そうだよ。だから、生目古墳群は歴史遺産としてとっても重要なんだよ。」


 「宮崎県を代表する歴史遺産の一つなんだね。」


 「その通り！しかも、宮崎県で一番古い時期の大型古墳があるんだよ。だから、もっとたくさんの人々に生目古墳群のことを知ってもらいたいと思うの！」

 「ぼくもそう思う！でも、どうすればいいのかな？」

 「それじゃあ、みんなでおもしろいアイデアを考えてみようよ！」

※ 文でもイラストでもOK！

 「めこぶん、ぼくも古墳マスターに近づいたかな？」

 「そうね…。それじゃ、**いっき**一次の問題にチャレンジしてみて！」

① 生目古墳群ハンドブックの4ページには、古墳づくりの様子が描かれています。みんなで作っているその前方後円墳は、いったい何号墳でしょうか？

(遠くに見える山がヒントになるよ)


② 生目古墳群ハンドブックの5ページには、はにわの種類が紹介されています。その中で、生目古墳群で見つかっているはにわの種類はどれでしょうか？


(一つじゃないよ)

③ 生目古墳群ハンドブックの16ページには、遺物の整理作業室が紹介されています。では、土器などの復元には、どのような道具を使うのでしょうか？

④ 4世紀の生目古墳群の豪族は、宮崎県で最も大きな勢力をもっていたと考えられていますが、それはなぜでしょうか？ (遊古館でもらえる古墳ガイドにヒントがあるよ)

 「今度の問題は、生目古墳群ハンドブックを読んでも分からないよ…。」

 「その通り！古墳マスターをめざすなら、生目古墳群や生目の杜遊古館に行ってみてみなくちゃね！」

 「それじゃあ、実際に生目古墳群や生目の杜遊古館に行ってみようよ！」

 「その調子！**いっき**ならきっと古墳マスターになれるよ！」